

# ТЕСТ ЗНАЊА

ЗА VI РАЗРЕД ОСНОВНЕ ШКОЛЕ

## ИСТОРИЈА

ОПШТИНСКО ТАКМИЧЕЊЕ  
2014. ГОДИНЕ

### УПУТСТВО ЗА РАД

1. Свако питање пажљиво прочитај да би га потпуно разумео.
2. Ако неко питање не можеш одмах да решиш, не губи време већ пређи на следеће, а касније се врати решавању прескоченог питања.
3. Потруди се да на свако питање одговориш тачно и потпуно.
4. Питања ради самостално и не ометај друге ученике.
5. Израда теста траје 60 минута.

Тест обавезно попуни хемијском оловком, јер се у противном одговори неће признати!

1. Пажљиво погледај карту на којој су уцртани градови и одговори на питања која се односе на приказану карту (тачком је приказана позиција града).



А) Који су градови уцртани на карти?  
(сваки град има свој број)

1. \_\_\_\_\_
2. \_\_\_\_\_
3. \_\_\_\_\_
4. \_\_\_\_\_

Б) Који градови су били престонице царстава?

\_\_\_\_\_

В) Који од уцртаних градови постоје и данас?

\_\_\_\_\_

2. Пажљиво прочитај објашњење и упиши на који се појам објашњење односи.

1. Наука која се бави рачунањем времена је \_\_\_\_\_
2. Остаци из прошлости који се преносе усменим путем су \_\_\_\_\_
3. Раздобље које почиње важним догађајем је \_\_\_\_\_
4. Раздобље прошлости које почиње открићем писма је \_\_\_\_\_
5. Место где се чувају писана документа и списи је \_\_\_\_\_

3. Писмо је велико и значајно откриће човека. Пажљиво прочитај питања која се односе на историју писма и одговори.

1. У ком миленијуму је откривено прво писмо? \_\_\_\_\_
2. Који народ је први изумео писмо? \_\_\_\_\_
3. Како се зове прво словенско писмо? \_\_\_\_\_
4. Која се два писма данас користе у нашој држави? \_\_\_\_\_

4. Историја Балкана је повезана са историјом многих народа. Пажљиво прочитај и одговори на питања попуњавајући табелу понуђеним појмовима која се односе на историју Балкана (један народ се може појавити у више колона).

ПОЈМОВИ : Срби, Илири, РOMEји, Мађари, Авари, Бугари, Хрвати, Румуни, Франци.

Староседеоци Балкана	Словенски и словенизирани народи	Суседи Словена у средњем веку	Народи који су живели на Балкану, а данас их нема под тим именом

5. Средњевековну историју обележило је постојање неколико царстава. Хронолошки поређај време њиховог настанка испишујући бројеве од 1 до 5, почевши од најстаријег.

- \_\_\_\_\_ Српско царство
- \_\_\_\_\_ Бугарско (Симеоново) царство
- \_\_\_\_\_ Византијско царство
- \_\_\_\_\_ Франачко царство
- \_\_\_\_\_ Бугарско (Самуилово) царство

6. Од понуђених тврдњи одабери једну која је хронолишки тачна, заокружи слово испред тачног одговора.

- а) Душан је крунисан за цара, проглашење српске патријаршије, доношење Душановог законика.
- б) Проглашење српске патријаршије, Душан је крунисан за цара, доношење Душановог законика.
- в) Душан је крунисан за цара, доношење Душановог законика, проглашење српске патријаршије.
- г) Доношење Душановог законика проглашење српске патријаршије, Душан је крунисан за цара.

7. Наведене су познате личности, хронолишки поређај по времену живота: (бројем 1 означи личност која је најстарија)

- \_\_\_ Константин Велики
- \_\_\_ Самуило
- \_\_\_ Мухамед
- \_\_\_ Ричард Лавље Срце
- \_\_\_ Атила

8. Заокружите Т ако је исказ тачан, а Н ако је исказ нетачан

- Т Н 1. Пагани су јеретици.
- Т Н 2. Крсташи са Запада учествују у Крсташким ратовима.
- Т Н 3. Средњевековни градови настају на поседу феудалца.
- Т Н 4. Куран је света књига хушћана.
- Т Н 5. Вазал је био ученик у средњевековној занатској радионици.

9. Повежи родбинске односе међу Немањићима тако што ћеш поред имена синовца уписати име његовог стрица или стричева:

СИНОВАЦ	СТРИЦ или СТРИЧЕВИ
а) Стефан Дечански	
б) Стефан Владислав	
в) Стефан Драгутин	

10. Попуни табелу тачним подацима који недостају:

Владар	Држава/ народ	Време владавине- век	Титула владара
Часлав Клонимировић			
	Византија	VI	
Атила			
	Босна	1190.	

11. Погледај слику и одговори на питања

- 1. Које писмо је приказано на овој слици? \_\_\_\_\_
- 2. Ко је саставио ово писмо? \_\_\_\_\_
- 3. У ком веку је настало ово писмо? \_\_\_\_\_



12. Пажљиво прочитај тврдње које се односе на Крсташке ратове. Одвој узроке од последица ратова. На линији испред тврдње напиши слово У ако се тврдња односи на узрок Крсташких ратова а слово П ако се тврдња односи на последицу Крсташких ратова.

1. \_\_\_\_\_ Тежња за освајањима.
2. \_\_\_\_\_ Пад Византије, освајање Цариграда.
3. \_\_\_\_\_ Борба против неверника.
4. \_\_\_\_\_ Покушај да се ослободи Света земља.
5. \_\_\_\_\_ Стварање крсташких држава на тлу Византије.

13. Пажљиво погледај слике манастира и одговори на постављена питања која се односе на ктитора манастира и владаре који се владали пре и после владавине ктитора.




A) 1. Пуно име ктитора  
 \_\_\_\_\_  
 2. Пуно име његовог претходника  
 \_\_\_\_\_  
 3. Пуно име његовог наследника  
 \_\_\_\_\_


Б) 1. Пуно име ктитора  
 \_\_\_\_\_  
 2. Пуно име његовог претходника  
 \_\_\_\_\_  
 3. Пуно име његовог наследника  
 \_\_\_\_\_


В) 1. Пуно име ктитора  
 \_\_\_\_\_  
 2. Пуно име његовог претходника  
 \_\_\_\_\_  
 3. Пуно име његовог наследника  
 \_\_\_\_\_

14. Пажљиво погледај слике које су симболи вере и одговори на питања:

1. Којој вери симбол припада?
2. Како се зову верници који исповедају ту веру?
3. Како се назива грађевина у којој исповедају веру?

A)  1. \_\_\_\_\_  
 2. \_\_\_\_\_

Б)  1. \_\_\_\_\_  
 2. \_\_\_\_\_  
 3. \_\_\_\_\_

В)  1. \_\_\_\_\_  
 2. \_\_\_\_\_  
 3. \_\_\_\_\_

15. На ленти времена прикажи хронолошки распоред догађаја, уписујући број испред догађаја у одговарајући круг на ленти времена.



1. Раскол у Хришћанској цркви.
2. Владавина цара Јустинијана.
3. Оснивање Цариграда.
4. Подела Римског царства.
5. Пад Источног римског царства.

Број питања	ОДГОВОРИ И БОДОВАЊЕ	Бодови																									
1.	А) 1. Рим 2. Цариград(Константинопољ) 3. Јерусалим 4. Мека све тачно 1 бод Б) Рим и Цариград (Константинопољ ) све тачно 1 бод В) сви градови и ако наброји све тачно 1 бод	3																									
2.	1. Хронологија 2. Народно ( усмено) предање традиција (прознати тачне варијанте одговора) 3. ера 4. Историја 5. архиви	1+1+1+1+1 укупно 5																									
3.	1. 4. миленијум 2. Сумерци 3. глагољица 4. Латиница и ћирилица	1+1+1+1 укупно 4																									
4.	Староседеоци: Илири и Ромеји (1) Словени и словенизитани: Срби, Бугари, Хрвати (1) Суседи: Мађари, Авари, Румуни, Франци, Ромеји (1) Данас их нема на Балкану: Илири, Ромеји, Авари (1)	За сваку тачну колону по 1 1+1+1+1 укупно 4																									
5.	5 3 1 2 4	3/0																									
6.	б)	1																									
7.	1 4 3 5 2	3/0																									
8.	Н Т Т Н Н	1+1+1+1+ 1 укупно 5																									
9.	а) (Стефан) Драгутин б) Вукан и Св. Сава в) (Стефан) Радослав и (Стефан) Владислав, (Предислав, Сава II.)	1+1+1 укупно 3																									
10.	<table border="1"> <thead> <tr> <th>Владар</th> <th>Држава/ народ</th> <th>Време</th> <th>Титула владара</th> <th>Бодови</th> </tr> </thead> <tbody> <tr> <td></td> <td>Рашка (Србија)</td> <td>X век</td> <td>Кнез</td> <td>1+1+1+1 укупно 4 само потпуно</td> </tr> <tr> <td>Јустинијан</td> <td></td> <td></td> <td>Цар</td> <td>тачна колона носи бод</td> </tr> <tr> <td></td> <td>Хуни</td> <td>V век</td> <td>Каган, кан (хан)</td> <td></td> </tr> <tr> <td>Кулин</td> <td></td> <td></td> <td>Бан</td> <td></td> </tr> </tbody> </table>	Владар	Држава/ народ	Време	Титула владара	Бодови		Рашка (Србија)	X век	Кнез	1+1+1+1 укупно 4 само потпуно	Јустинијан			Цар	тачна колона носи бод		Хуни	V век	Каган, кан (хан)		Кулин			Бан		
Владар	Држава/ народ	Време	Титула владара	Бодови																							
	Рашка (Србија)	X век	Кнез	1+1+1+1 укупно 4 само потпуно																							
Јустинијан			Цар	тачна колона носи бод																							
	Хуни	V век	Каган, кан (хан)																								
Кулин			Бан																								
11.	1. Глагољица 2. Константин (Ћирило и Методије) 3. IX век	1+1+1 укупно 3																									
12.	У, П, У, У, П	2/0																									
13.	А) 1. Стефан Владислав 2. Стефан Радослав 3. Стефан Урош I (1/0) Б) 1. Стефан Немањић (Првовенчани) 2. Стефан Немања 3. Стефан Радослав(1/0) В) 1. Стефан Урош I 2. Стефан Владислав 3. Стефан Драгутин (1/0)	1+1+1 укупно 3																									
14.	А) 1. Јудаизам 2. Јевреји (1/0) Б) 1. Хришћанство 2. Хришћани 3. Црква( катедрала, манастир) (1/0) В) 1. Ислам 2. Муслимани 3. Џамија (1/0)	1+1+1 укупно 3																									
15.	3, 4, 2, 1, 5	2/0																									
Прво место: 46-48 Друго место: 45-43 Треће место: 38-42 НА ОКРУЖНО (ГРАДСКО) ТАКМИЧЕЊЕ ПЛАСИРАЛИ СУ СЕ УЧЕНИЦИ КОЈИ ИМАЈУ 38 И ВИШЕ ПОЕНА.		Укупно 48																									